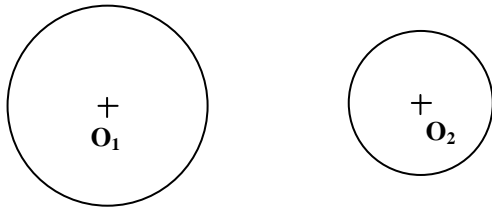
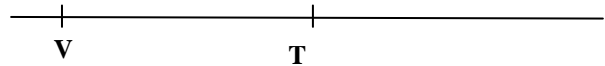


Nombre: \_\_\_\_\_ N° \_\_\_\_\_ Clase: \_\_\_\_\_


- Trazar una recta tangente interior a las dos circunferencias dadas



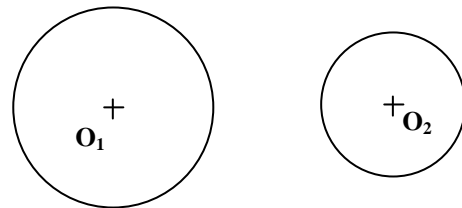
- Trazar un ángulo de  $60^\circ$  en V y la circunferencia tangente a las dos rectas pasando por el punto T



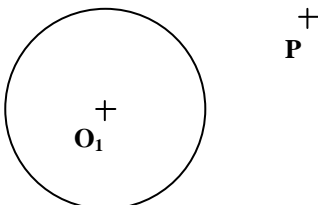
- Trazar una circunferencia de  $r = 25$ , tangente a la recta dada, que pase por el punto P



- Trazar un arco de circunferencia de  $r = 25$ , tangente a las dos circunferencias de forma CONCAVA



- Trazar una circunferencia de  $r = 30$ , tangente a la dada y que pase por P



- Trazar un arco de circunferencia de  $r = 50$ , tangente a las dos circunferencias de forma CONVEXA

