


Nombre: _____ N° _____ Clase: _____

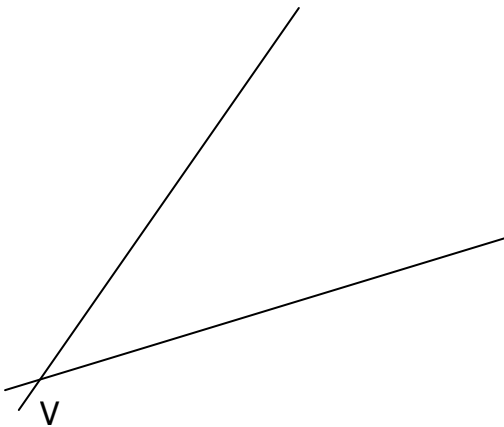
☞ EN TODOS LOS EJERCICIOS SE USA EL COMPÁS. NO BORRAR LAS LÍNEAS AUXILIARES.

- Trazar la MEDIATRIZ del segmento AB




- Construir un TRIÁNGULO de base $c = 60$ y lados $a = 40$; $b = 50$

- Trazar la BISECTRIZ del siguiente ángulo



- Dividir el siguiente segmento en 11 partes iguales (teorema de Thales)



- Construir un TRIÁNGULO de base $c = 45$, lado $b = 60$ y altura $h = 50$

- Sobre la recta r traza un TRIÁNGULO igual al modelo

